



**Week-1: WORK SHEET-2** **Our Earth (భూమి)**

1. **Observe the following picture and write latitudes.**  
1. దిగువ చిత్రాన్ని చదివి, అక్షాంశాలు గురించి రాయండి.



2. **Observe the following picture and write longitudes.**  
2. దిగువ చిత్రాన్ని చదివి, రేఖాంశాలు గురించి రాయండి.





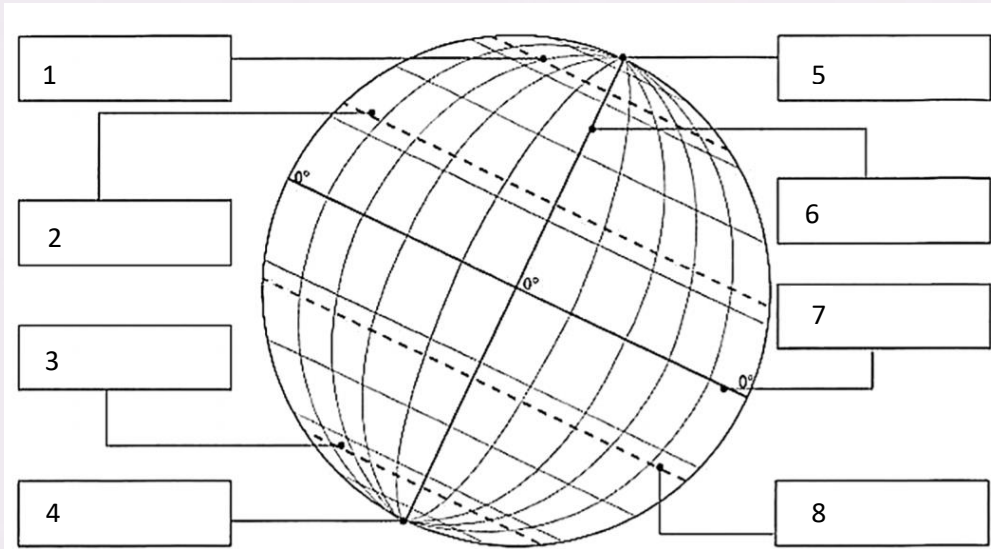
www.digitalsocialteacher.in

Week-1: WORK SHEET-2

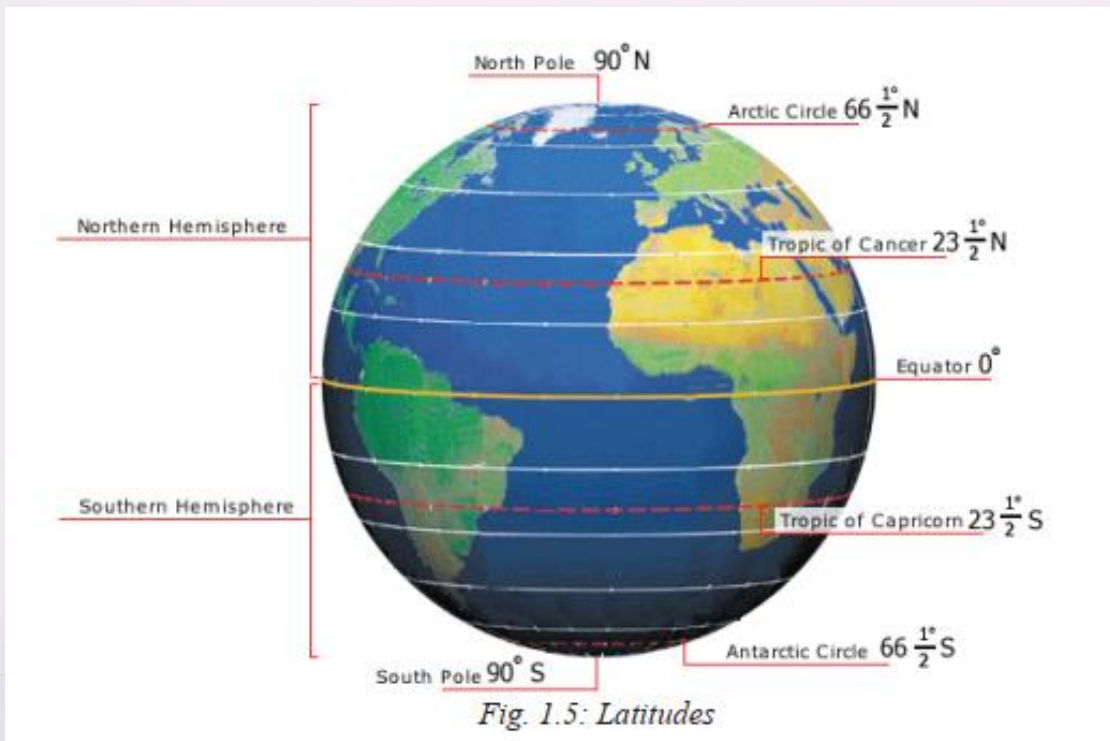
Our Earth (భూమి)

3. Write the names of prime latitudes and longitude in respective boxes in the given picture.

3. చిగువ చిత్రంలోని పెట్టిలలో సంబంధిత ప్రధాన అక్షాంశాలు, రేఖాంశం పేర్లను రాయండి.



4. Read the following picture and answer the below questions.





www.digitalsocialteacher.in

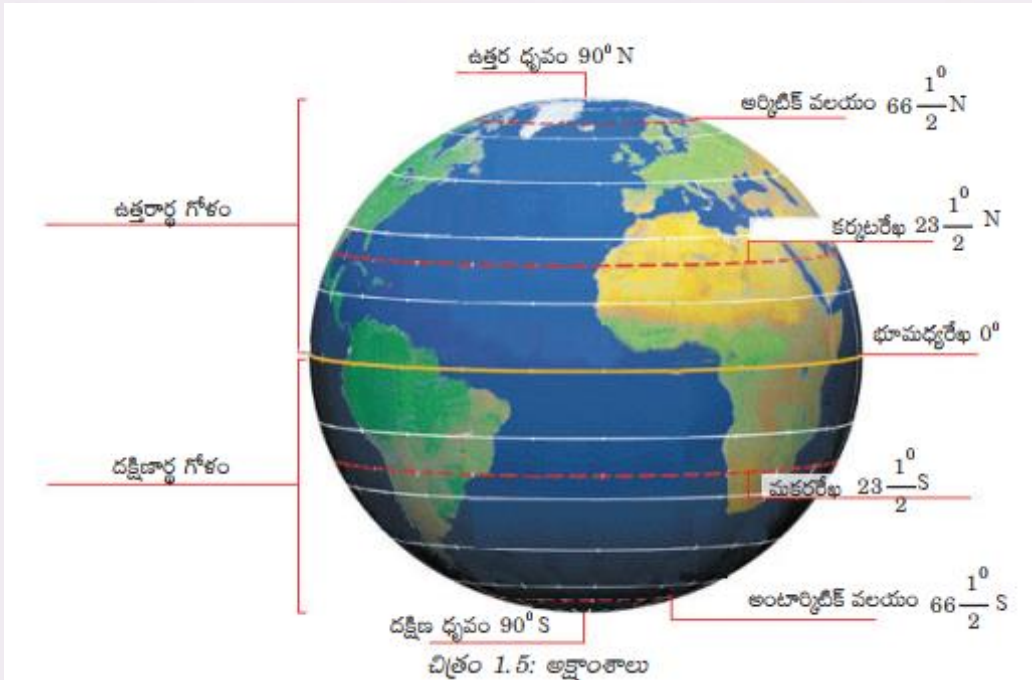
**6<sup>th</sup> SOCIAL STUDIES – WORKSHEETS**  
by Rambabu Sunkari

**Alternative Academic Calendar 2020**

**Week-1: WORK SHEET-2** **Our Earth (భూమి)**

- i. Which prime latitude known as tropic of cancer?
- ii. Which prime latitude known as Antarctic circle?
- iii. Name the 23 ½ degrees south latitude?
- iv. Name the 90 degrees north latitude?

4. దిగువ చిత్రాన్ని చదివి, క్రింది ఇవ్వబడిన ప్రశ్నలకు సమాధానాలు రాయండి.



- i. ఏ అక్షాంశాన్ని కర్కటరేఖ గా పిలుస్తారు?
- ii. ఏ అక్షాంశాన్ని అంటార్కిటిక్ వలయం గా పిలుస్తారు?
- iii. 23 ½ డిగ్రీల దక్షిణ అక్షాంశాన్ని ఏమందురు?
- iv. 90 డిగ్రీల ఉత్తర అక్షాంశాన్ని ఏమందురు?